

مع تقنيات النجاح والتفوق
مستور و ليد المصوري
معه غير رياضيات
١٢٢٩٤٧٦٩٤٨

الأولياء

الرياضيات

الاسم:

الفصل:

المدرسة:



2

المستوى

رياض الأطفال
الفصل الدراسي الأول

2021

ل
ي الأمر

المحتويات



الفصل ١

- تنمية المهارات
- الأعداد ٠-١
- الأشكال ثنائية الأبعاد (الدائرة - المثلث - المربع)
- مقارنة الأحجام
- الأوضاع النسبية للأشياء مستخدماً (أعلى وأسفل)
- الأنماط البصرية

الفصل ٢

- العددان ٦-٧
- مقارنة الكميات
- الأوضاع النسبية للأشياء مستخدماً (المتوسط، أمام وخلف)
- ترتيب الأعداد
- التمثيل البياني بالصور



الفصل ٣

- الأعداد ٨، ٩، ١٠ والصفر
- العد حتى العدد ١٠
- التمثيل البياني بالصور
- مقارنة الأعداد مستخدماً (أكثر من، أقل من ويساوي)





الفصل ٤

- العدد الأكثر بيا والأقل بيا
- مكونات العددين (٦,٥)
- مراجعة على مكونات الأعداد ٣, ٤, ٥ و ٦
- الأعداد ١١, ١٢, ١٣, ١٤, ١٥

الفصل ٥

- الأعداد ١٦, ١٧, ١٨, ١٩, ٢٠
- مكونات الأعداد (٧, ٨, ٩, ١٠)



الفصل ٦

- مقارنة الأطوال مستخدماً (أطول من - أقصر من)
- التمثيل البياني بالصور
- مقارنة الأوزان مستخدماً (الأثقل - الأخف)
- مراجعة على العد حتى العدد ٢٠



قاموس الصور

تقويم ٢٠٢٠

مع تمنياتي بالنجاح والتفوق
مستتر ولد مستري
معناه
م؟ ٤٨



مارس

الأحد الإثنين الثلاثاء الأربعاء الخميس الجمعة السبت

٧	٦	٥	٤	٣	٢	١
١٤	١٣	١٢	١١	١٠	٩	٨
٢١	٢٠	١٩	١٨	١٧	١٦	١٥
٢٨	٢٧	٢٦	٢٥	٢٤	٢٣	٢٢
			٣١	٣٠	٢٩	



يناير

الأحد الإثنين الثلاثاء الأربعاء الخميس الجمعة السبت

٤	٣	٢	١			
١١	١٠	٩	٨	٧	٦	٥
١٨	١٧	١٦	١٥	١٤	١٣	١٢
٢٥	٢٤	٢٣	٢٢	٢١	٢٠	١٩
		٣١	٣٠	٢٩	٢٨	٢٧



يونيو

الأحد الإثنين الثلاثاء الأربعاء الخميس الجمعة السبت

٦	٥	٤	٣	٢	١	
١٣	١٢	١١	١٠	٩	٨	٧
٢٠	١٩	١٨	١٧	١٦	١٥	١٤
٢٧	٢٦	٢٥	٢٤	٢٣	٢٢	٢١
			٣٠	٢٩	٢٨	



مايو

الأحد الإثنين الثلاثاء الأربعاء الخميس الجمعة السبت

٢	١					
٩	٨	٧	٦	٥	٤	٣
١٦	١٥	١٤	١٣	١٢	١١	١٠
٢٣	٢٢	٢١	٢٠	١٩	١٨	١٧
٢٤	٢٣	٢٢	٢١	٢٠	١٩	١٨
		٣٠	٢٩	٢٨	٢٧	٢٦
						٣١



إبريل

الأحد الإثنين الثلاثاء الأربعاء الخميس الجمعة السبت

٤	٣	٢	١			
١١	١٠	٩	٨	٧	٦	٥
١٨	١٧	١٦	١٥	١٤	١٣	١٢
٢٥	٢٤	٢٣	٢٢	٢١	٢٠	١٩
		٣٠	٢٩	٢٨	٢٧	٢٦

تقويم ٢٠٢٠

مع تمنياتي بالنجاح والتفوق
مستر وليد المصري
معلم خبازات
م - ٤٨٩٧٦٥٤٣٢١



سبتمبر

الأحد الإثنين الثلاثاء الأربعاء الخميس الجمعة السبت

٥	٤	٣	٢	١		
١٢	١١	١٠	٩	٨	٧	٦
١٩	١٨	١٧	١٦	١٥	١٤	١٣
٢٦	٢٥	٢٤	٢٣	٢٢	٢١	٢٠
		٣٠	٢٩	٢٨	٢٧	



أغسطس

الأحد الإثنين الثلاثاء الأربعاء الخميس الجمعة السبت

١						
٨	٧	٦	٥	٤	٣	٢
١٥	١٤	١٣	١٢	١١	١٠	٩
٢٢	٢١	٢٠	١٩	١٨	١٧	١٦
٢٩	٢٨	٢٧	٢٦	٢٥	٢٤	٢٣
					٣١	٣٠



يوليو

الأحد الإثنين الثلاثاء الأربعاء الخميس الجمعة السبت

٤	٣	٢	١			
١١	١٠	٩	٨	٧	٦	٥
١٨	١٧	١٦	١٥	١٤	١٣	١٢
٢٥	٢٤	٢٣	٢٢	٢١	٢٠	١٩
		٣١	٣٠	٢٩	٢٨	٢٧
						٢٦



ديسمبر

الأحد الإثنين الثلاثاء الأربعاء الخميس الجمعة السبت

٥	٤	٣	٢	١		
١٢	١١	١٠	٩	٨	٧	٦
١٩	١٨	١٧	١٦	١٥	١٤	١٣
٢٦	٢٥	٢٤	٢٣	٢٢	٢١	٢٠
		٣١	٣٠	٢٩	٢٨	٢٧



نوفمبر

الأحد الإثنين الثلاثاء الأربعاء الخميس الجمعة السبت

٧	٦	٥	٤	٣	٢	١
١٤	١٣	١٢	١١	١٠	٩	٨
٢١	٢٠	١٩	١٨	١٧	١٦	١٥
٢٨	٢٧	٢٦	٢٥	٢٤	٢٣	٢٢
					٣٠	٢٩



أكتوبر

الأحد الإثنين الثلاثاء الأربعاء الخميس الجمعة السبت

٣	٢	١				
١٠	٩	٨	٧	٦	٥	٤
١٧	١٦	١٥	١٤	١٣	١٢	١١
٢٤	٢٣	٢٢	٢١	٢٠	١٩	١٨
٣١	٣٠	٢٩	٢٨	٢٧	٢٦	٢٥

مع تقنيات النماذج والتقوية
مهندس وليد المصري
عنوان: ...
☎: ٠١٢٢٩٤٧٦٩٤٨



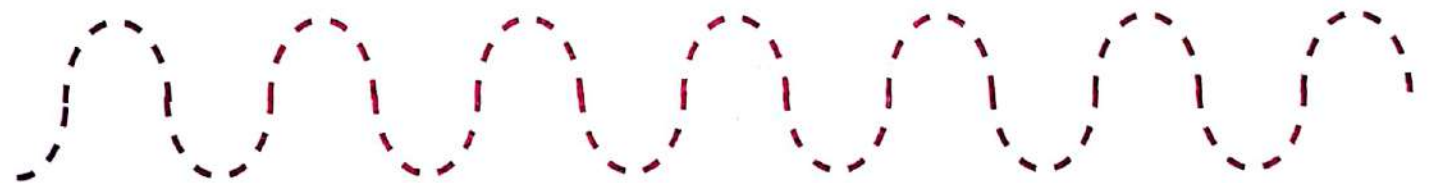

الفصل ١



تنمية المهارات


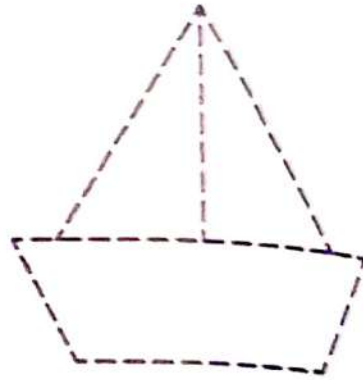
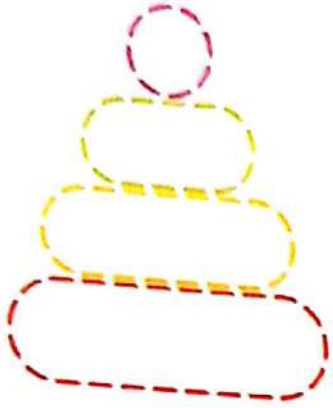
تمنّى تمنياتى بالنجاح والتفوق
مستر وليد المصرى
معلمه حبير رياضيات
م: ١٢٢٩٤٧٦٩٤٨

تتبع النقاط المرسومة:



مع تفتيات بالتفاح والتفوق
مستتر وليند المصري
عنه خم رياضيات
م: ٠١٢٢٩٤٧٦٩٤٨

تتبع النقاط ثم لون:



مع تمنياتي بالنجاح والتفوق
مستر وليد المصري
معلمة خير رياضيات
ح : ٠١٢٢٩٤٧٦٩٤٨


الدرسان ٢-١

العدد


واحد




واحد



تتبع النقاط ثم اكتب:



اكتب العدد الناقص:



إطار الخانات الخمس
واحد

مفردات جديدة

اذهب إلى التقويم وارسم دائرة حول تاريخ اليوم.




مركز تطوير الطفل والتعليم والتدريب
بمحافظة القاهرة
11111

الدائرة



الدائرة ليس لها
أضلاع ولا زوايا




لون، ثم حدد وصل:

صل حدد لون

مع تمنياتي بالنجاح والتفوق
مستتر وليد المصري
معه خبر رياسات
م : ٠١٢٢٩٤٧٦٩٤٨

أحب رسم الدوائر:

لون الدوائر الكبيرة والدوائر الصغيرة :






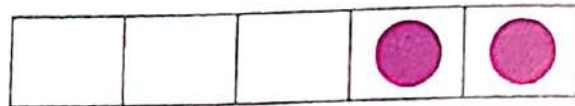
مع تمنياتي بالنجاح والتفوق
صديقتي وليلى المحسري
معلمة خيم رياضيات
٠١٢٣٩٤٧٦٩٤٨ : م

العدد

اثنان




اثنان



تتبع النقاط، ثم اكتب:



لون أمم الفراولة:



اثنان

مفردات جديدة

اذهب إلى التقويم وارسم دائرة حول تاريخ اليوم.



مع تمنياتنا بالنجاح والتفوق
مستتر وليد المحسني
معه خير واسم
م : ١٦٢٩٥١٦٩٤٨

اثنان


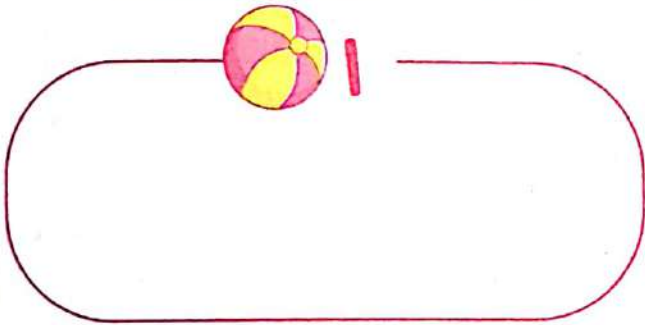

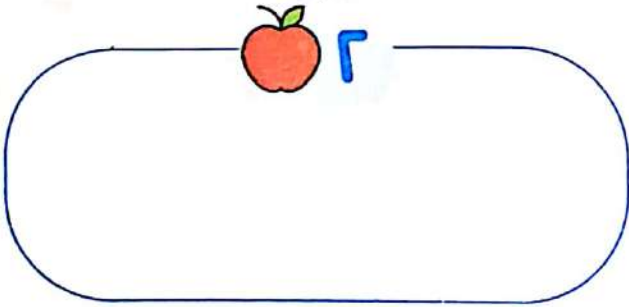


١

واحد



٢



• وجه طفلك لكتابة العددين ١ ، ٢ وتمثيلهما في إطار الخانات الخمس.

نشاط منزلي



مع تعليمات المعلم والمعلمين
مكتبة و لوجيا المصرية
قاعة مصر للدراسات
٤١٧٧٦٤٤٧ - ٢٤٤٤٤٤٤

٣ - ٤


الدرسان



العدد

ثلاثة


ثلاثة



تتبع النقاط، ثم اكتب:



لون ٣ من المانجو:




المثلث



المثلث له ٣ أضلاع
و ٣ رؤوس

رأس



ضلع

لون، ثم حدد وصل:



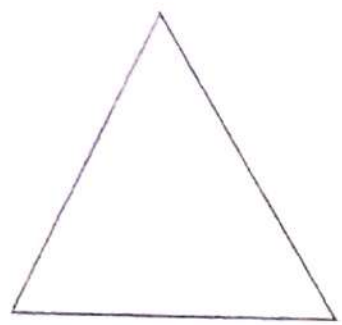
صل



حدد



لون



مثلث

مفردات جديدة


مع تمنياتي بالنجاح والتفوق
مستر وليد المحمدي
شجع طفلك على رسم مثلثات
م : ٠١٢٢٩٤٧٦٩٤٨

نشاط منزلي



مقارنة الأحجام

مع تمنياتي بالنجاح والتفوق
مستر وليد المصري
معلمه خير رياضيات
م : ٠١٢٢٩٤٧٦٩٤٨



متماثل




صغير




كبير


لون الفاكهة:




الأخبر
بـ



متماثل
بـ




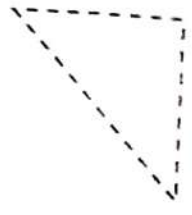
المختلفة
بـ





الأصغر
بـ




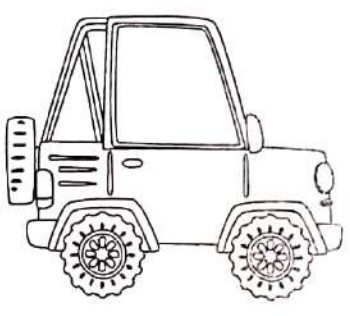
تتبع النقاط ثم لون المتشابه باللون ● والمختلف باللون ○ :



كم عدد؟



لون الأكبر باللون ● والأصغر باللون ○ :



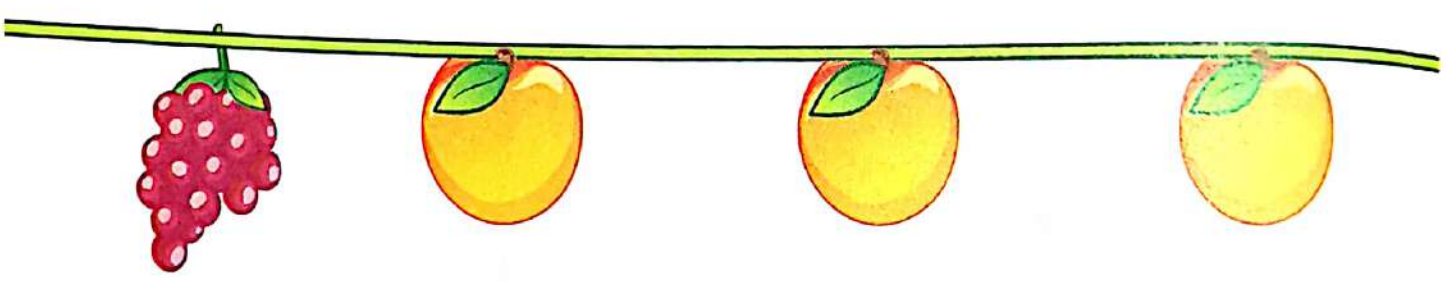

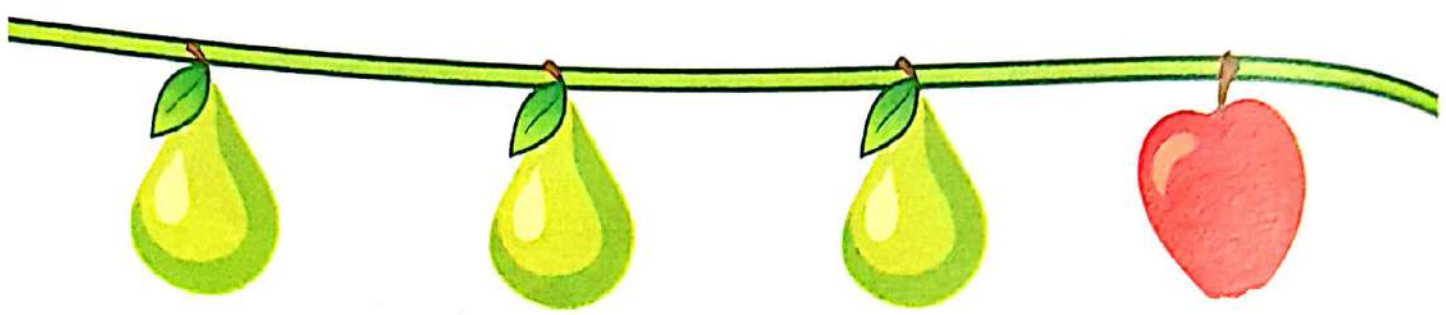

مع تمنياتي بالنجاح والتفوق
 مسمتة ونبيلة المصري
 خبير رياضيات
 م : ٠١٢٢٩٤٧٦٩٤٨

• ارسم أكبر وأصغر شجرة من غرفتك خبير رياضيات



مع تمنياتي بالنجاح والتفوق
مستتر وليد المصري
معلم خبير رياضيات
م : ٠١٢٢٩٤٧٦٩٤٨

ارسم دائرة حول الفاكهة المختلفة:




مع تمنياتي بالنجاح والتفوق
مستتر وليد المصري
معلم خبير رياضيات
م : ٠١٢٢٩٤٧٦٩٤٨

مع تقنيات النجاح والتفوق
مستتر ولينها المصنوع
عنه فخير رياضات
م : ٩٢٢٩٤٧٦٩٤٨

الدرسان ٦-٥



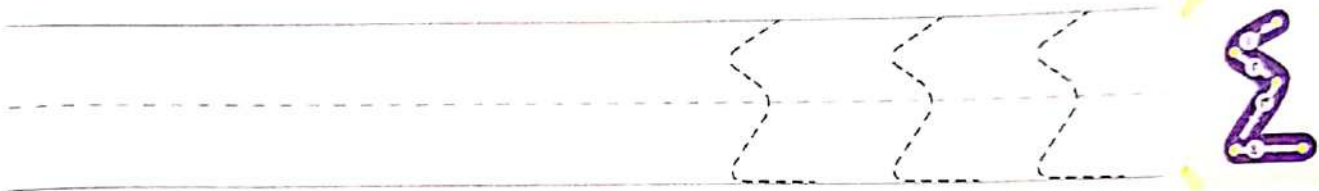
العدد
أربعة



أربعة



تتبع النقاط، ثم اكتب:



اكتب العدد الناقص:



أربعة

مفردات جديدة

اذهب إلى التقويم وارسم دائرة حول تاريخ اليوم.




مع تمنياتي بالنجاح والتفوق
مستتر وليد المصري
علم خير رياسات
م : ٠١٣٢٩٤٧٦٩٤٨


المربع



المربع له
٤ أضلاع و٤ زوايا



ضلع



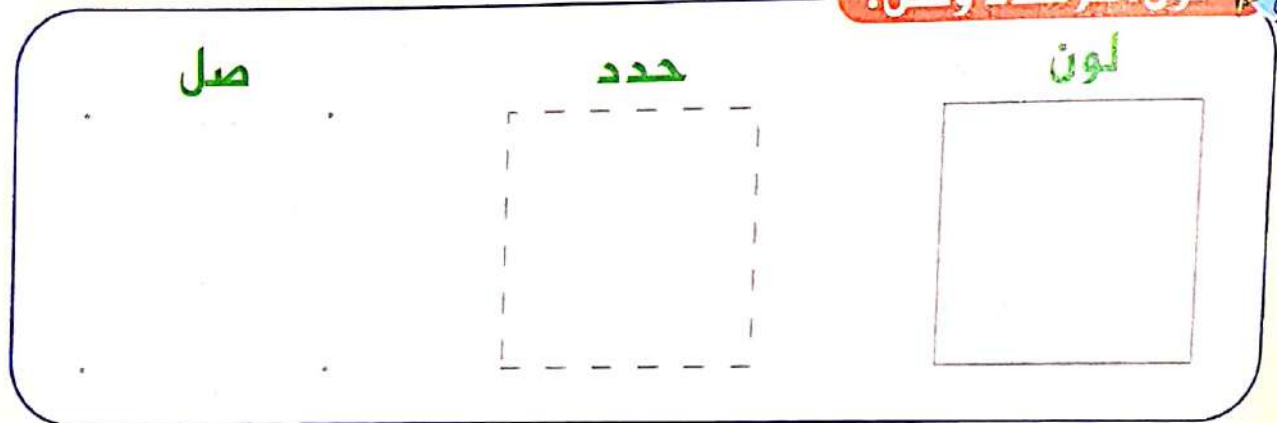
رأس

لون، ثم حدد وصل:

صل

حدد

لون



مع تمنياتي بالنجاح والتفوق
مستر وليد المصري
معلم خبير رياضيات
هاتف: ٠١٢٢٩٤٧٦٩٤٨

لون مستعيناً بمفتاح التلوين:



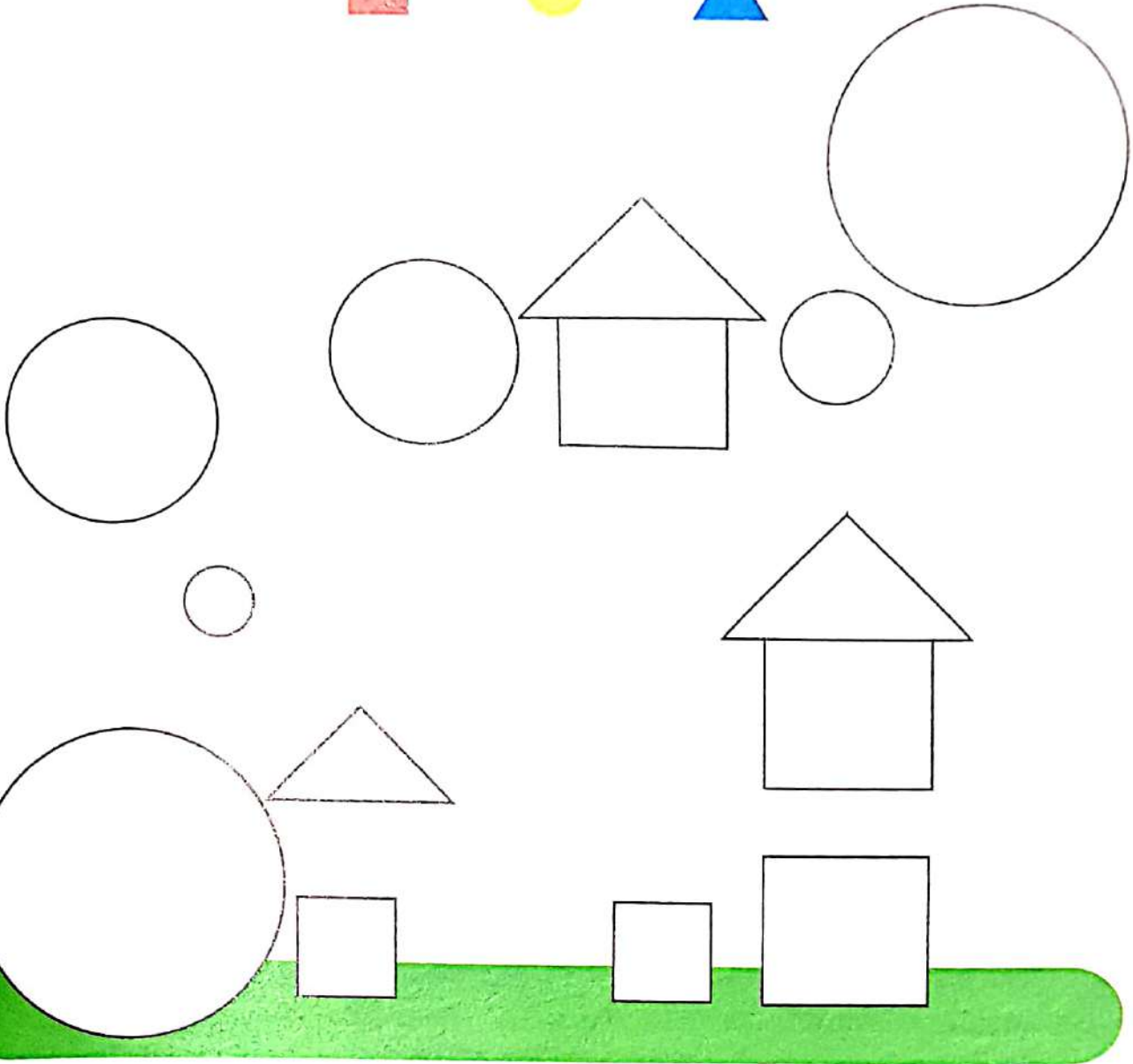
مربع



دائرة



مثلث



مع تمنياتي بالنجاح والتفوق
مستر وليد المصري
معلمه خبير رياضيات
م : ٠١٢٢٩٤٧٦٩٤٨

أعلى وأسفل




أعلى



أسفل



لون ما هو بالأعلى بـ (●) وما هو بالأسفل بـ (○):



ارسم دائرة حول الصورة التي تعبر عن وجود كرة أسفل المنضدة:



ارسم دائرة حول الصورة التي تعبر عن وجود أرنب أعلى الكرسي:



ارسم دائرة حول الصورة التي تعبر عن وجود عصفورة أسفل العشب:




مع تمنياتي بالنجاح والتفوق
مستتر وليد المصري
خبير رياضيات
٠١٢٢٩٤٧٦٩٤٨

• شجع طفلك على تلوين الأشياء التي بالأعلى
والأشياء التي بالأسفل بلونين مختلفين.

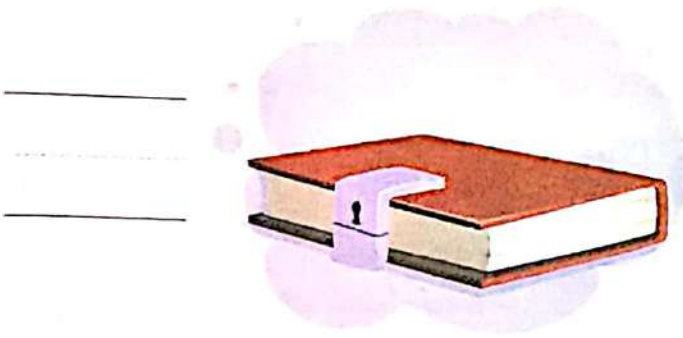


مع تمنياتي بالنجاح والتفوق
 مستر وليد المصري
 معلمه خير رياضيات
 م: ٠١٢٢٩٤٧٦٩٤٨

عد ثم اكتب العدد: 









ارسم ا 🍎 أعلى المائدة و 🍌 أسفل المائدة: 




العدد ٢
 العدد ٢
 العدد ٢

مع تمنياتي بالفرح والتفوق
مستر وليد المصري
عنه خبر رياضي
م : ٠١٢٢٩٤٧٦٩٤٨


الدرس ٧-٨

العدد

خمسة



خمسة



تتبع النقاط، ثم اكتب:



ارسمه أشياء:




مفردات جديدة
خمسة

اذهب إلى التقويم وارسم دائرة حول تاريخ اليوم.




مع تميّزنا بالتفاح والتفوق
 مستر وليد المصري
 معه خبر رياضي
 م : ٠١٢٢٩٤٧٦٩٤٨

ارسم فاكهة حسب العدد الموضح:



اكتب العدد الناقص:



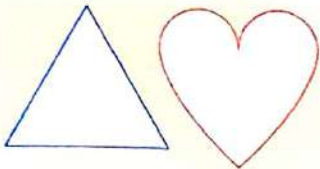




مع تمنياتي بالنجاح والتفوق
مستر وليد المصري
عنه خير رياضيات
م : ٠١٢٢٩٤٧٠٠٠٨

الأنماط البصرية



لون الشكل الذي سيأتي تالياً في النمط:



أكمل رسم النمط:




النمط

مفردات جديدة

اذهب إلى التقويم وارسم دائرة حول تاريخ اليوم.







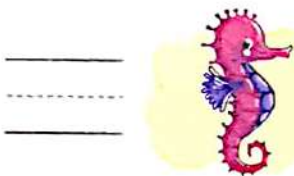
مع تفتيش بالتفوق
مستتر وليد المصري
بعضه خير رياضات
م: ٠١٢٢٩٤٧٦٩٤٨

الدرسان ٩-١٠

العد حتى العدد ٥



كم العدد:



العد

مفردات جديدة

اذهب إلى التقويم وارسم دائرة حول تاريخ اليوم.



٣٢

مع تلميذاتي بالنجاح والتفوق
مستتر وليد المصري
عنه تلميذات
م : ٠١٢٢٩٤٧٦٩٤١

تتبع النقاط، ثم اكتب العدد:



اكتب العدد بالحروف:



واحد

اثنان

ثلاثة

مع تمنياتي بالنجاح والتفوق
مستر وليد المصري
معلم خبير رياضيات
م: ٠١٢٢٩٤٧٦٩٤٨

تتبع النقاط، ثم اكتب العدد:



اكتب العدد بالحروف:



أربعة

خمسة

عد، ثم لون الإجابة الصحيحة:



ثلاثة

اثنان

واحد



أربعة

اثنان

واحد




ثلاثة

خمسة

واحد

مع تمنياتي بالنجاح والتقوى
مستار وليد المصري
معه خبير رياضيات
م: ٠١٢٢٩٤٧٦٩٤٨

اكتب العدد الناقص:



ارسم أشكالاً حسب العدد الموضح:



٢

٤



٣




٠

انظر للصورة ثم اكتب:

مع تمنياتي بالنجاح والتفوق
مستتر وليد المصري
عنه خير رباسات
م : ٠١٢٢٩٤٧٦٩٤١







كم العدد؟

		
_____	_____	_____
_____	_____	_____
_____	_____	_____

مع تمنياتي بالنجاح والتفوق
مستتر وليد المصري
معه خير رياضيات
م: ٠١٢٢٩٤٧٦٩٤٨

ارسم لتكون خمسة أشياء:



مع تمنياتي بالتميز والتفوق
مستتر وليد المصري
معه خبير رياضيات
م : ٠٩٢٢٩٤٧٦٩٤٨



وقت المرح

هيا نخلق معاً في الفضاء:



مع تمنياتي بالتميز والتفوق
مستتر وليد المصري
معه خبير رياضيات
م : ٠٩٢٢٩٤٧٦٩٤٨

٢

الفصل

مع تمنياتي بالنجاح والسوق
مستتر و أيدى المصري
معلمة خبير رياضيات
٢٢٩٤٧٢٩٤٨ : م



محتويات الفصل الثاني

سيتعلم الطفل ما يلي:

الدروس ١-٣

• العدد ٦

• ترتيب الأعداد

• مقارنة الكميات مستخدمًا

(أكثر من وأقل من ويساوي)

الدروس ٤-٦

• العدد ٧

• المنتصف

• الأوضاع النسبية للأشياء

مستخدمًا (الأمام والخلف)

الدرستان ٧، ٨

• التمثيل البياني بالصور.

الدرستان ٩، ١٠

• العدد حتى العدد ٧

• وقت المرح.



مع تمنياتي بالنجاح والتفوق
مستتر ووليد المصري
سنة خير رياضيات
٠١٢٢٩٤٧٦٩٤٨٠٠٠٠
م


الدروس ٣-١

العدد

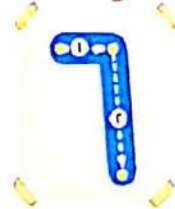
ستة




ستة



تتبع النقاط، ثم اكتب:



اكتب العدد ناقص:



ستة

مفردات جديدة

اذهب إلى التقويم وارسم دائرة حول تاريخ اليوم.



مع تمنياتي بالنجاح والتفوق
مستر وليد المصري
معلم خبير رياضيات
م : ٠١٢٢٩٤٧٦٩٤٨

ارسم أشياء حسب الأعداد الموضحة:



٥

٤

٦

٣

نشاط منزلي




• وجه طفلك للعد حتى العدد ٦


ترتيب الأعداد

مع تمنياتي بالنجاح والتفوق
مستتر وليد المصري
أعله خير فضيات
م: ٠١٢٢٩٤٧٦٩٤٨

رتب الأعداد:



رتب الأعداد:



مع تمنياتي بالنجاح والتفوق
مستتر وليد المصري
أعله خير فضيات
م: ٠١٢٢٩٤٧٦٩٤٨







رتب مفردات جديدة



٤٤

مع تمنياتي بالتجّاح والتفوق
 مستر وليد المصري
 معه خير ربّاسات
 م : ٠١٢٢٩٤٧٦٩٤٨

رتب الأعداد من الأصغر إلى الأكبر:



مقارنة الكميات مستخدمًا أكثر من وأقل من ويساوي

أقل



يساوي



أكثر



٢ أقل من ٣

٣ يساوي ٣

٣ أكثر من ٢

ضع دائرة حول المجموعة الأقل فد كل منف:



أكثر
أقل
يساوي

مفردات جديدة

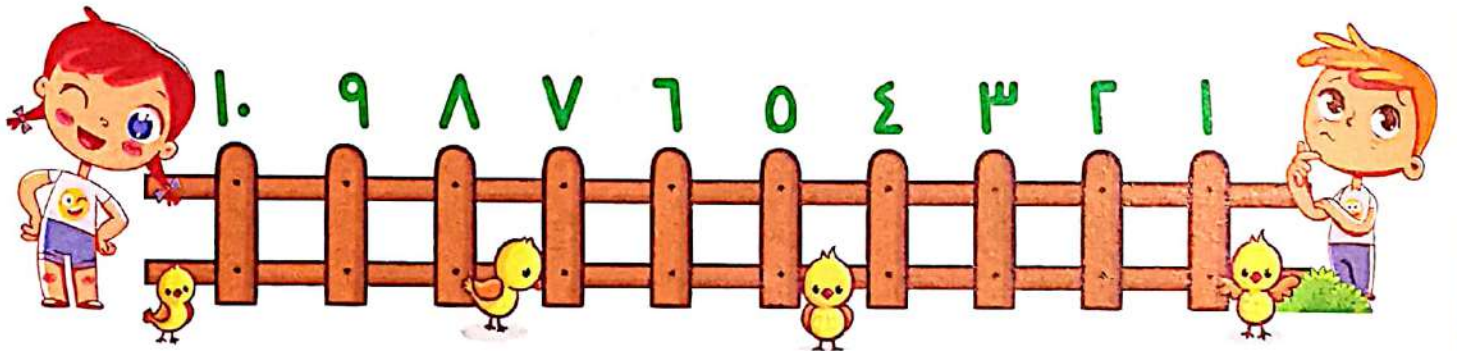
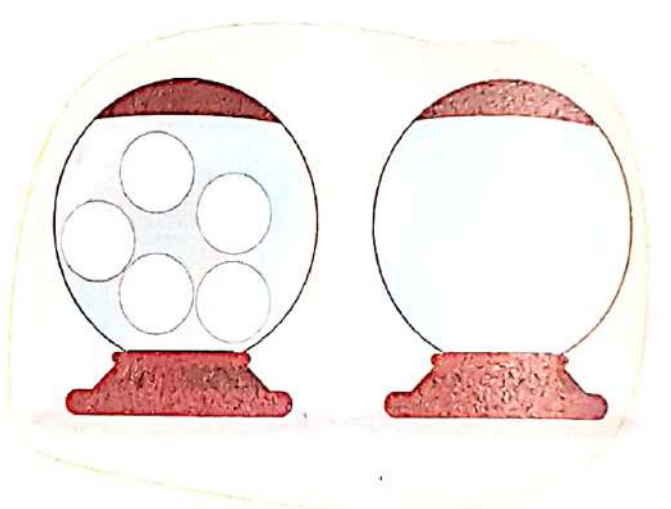

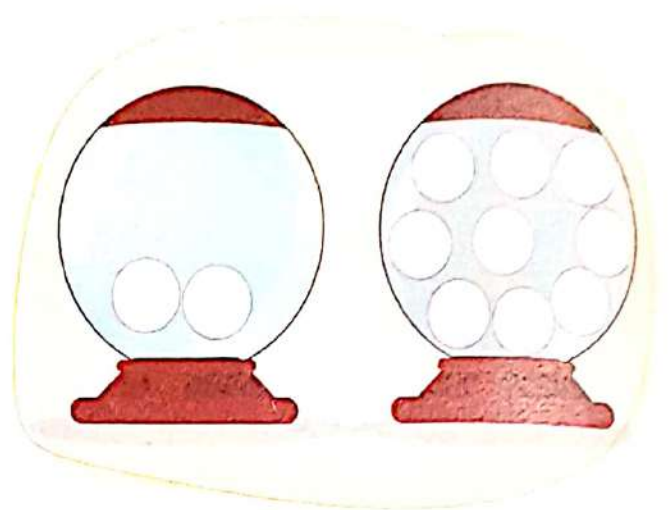

مع تمنياتي بالفجاح والتفوق

مستور وليد المصري

اذهب إلى التقويم وارسم دائرة حول تاريخ اليوم.




م : ٠ ١ ٢ ٣ ٤ ٥ ٦ ٧ ٨ ٩







مع تقنيات الانجاز والمنهج
مستتر وليد المصري
معه خير رياضي
٠٢٢٩٤٧٦٩٤٨




لون المجموعة الأكثر في العدد:



لون المجموعة الأقل في العدد:



لون المجموعتين المتساويتين في العدد:

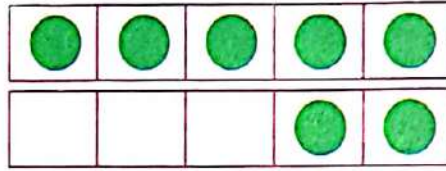



مع تمنياتي بالنجاح والتفوق
مستراً وليد المصري
معه خير رياضيات
م : ٠١٢٢٩٤٧٦٩٤٨



العدد

سبعة



سبعة

تتبع النقاط، ثم اكتب:




ارسم ٧:

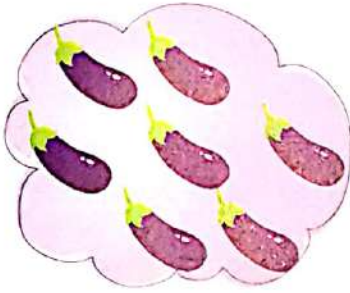


مع تمزيقات بالنجاح والتفوق
 مستر وليد المصري
 معلم حبير رياضيات
 م: ٠١٢٢٩٤٧٦٩٤٨

أجمل الأعداد الناقصة:



عد وارسم دائرة حول الرقم المناسب:



٤ ٣ ٢ ١
 ٥ ٧ ٦



٧ ١ ٣ ٦ ٤
 ٥ ٢

• شجع طفلك على عد أشياء حتى العدد ٧



صل:



واحد

٦

اثنان

٣

أربعة

١

خمسة

٢

ستة

٧

ثلاثة

٤

سبعة

٥

المنتصف

أنا في المنتصف



٣





٢



١

ضع دائرة حول ما في المنتصف كما بالمثل:



منتصف


مفردات جديدة

اذهب إلى التقويم وارسم دائرة حول تاريخ اليوم.



مع تمنياتي بالفتح والقبول
مستتر وتفيد المحصري
عنه غير رياست
م : ٠١٢٢٩٤٧٦٩٤٨

الأمام والخلف




خلف المنزل



أمام المنزل



ارسم ○ حول الشيء الموجود في الأمام، وارسم △ حول الشيء الموجود في الخلف:



لون في الأمام باللون ● و في الخلف باللون ●:



لون في الأمام باللون ● و في الخلف باللون ●:



من تسميات بالنجاح والتفوق
مستر وليد المصري

• ارسم لتبين ما تعرفه عن المكان مستخدمًا مصطلحات (أمام، خلف).



مع تميّزاتي بالفجاح والتفوق
مستتر وليد المحسري
تعلّم خير رياضيات
م: ٠١٢٢٩٤٧٦٩٤٨


٨-٧




الدرسان

التمثيل البياني بالصور



أيهما الأقل عددًا؟



		
٣	٢	١



مع تمييزي بالنجاح والتفوق
 مستشفى وليد المصري
 مطبخ خبز رياضي
 م. ٠٩٢٢٩٤٧٦٩٤٨

لون حسب الرقم الموضح:



٥	٤	٣	٢	١

عد، ثم اكتب العدد:



_____	_____	_____	_____	١

• شجع طفلك على عد ألعابه وتمثيلها بيانياً بالصور.



مع تمنياتي بالنجاح والتفوق
 ماستر وليد المصري
 معلمه خير رياضيات
 م : ٠١٢٢٩٤٧٦٩٤٨

لون حسب العدد المعطى:




٥	٤	٣	٢	١



مع التلميذات بالنجاح والتفوق
 ماستر وليد المصري
 معلمة خير رياضيات
 م: ٠١٣٢٩٤٧٦٩٤٨

الدرسان ٩-١٠

العد حتى العدد ٧



كم العدد؟



ولد



— =
 — =
 — =

بنت



— =
 — =
 — =



— =
 — =
 — =




— =
 — =
 — =

العـد مفردات جديدة

اذهب إلى التقويم وارسم دائرة حول تاريخ اليوم.






عد وتم اكتب العدد:



مع تمنياتي بالنجاح والموفق
ميسرة وليد المصري
معه خير رياضي
٠١٢٢٩٤٧٦٩٤١

أطفالنا - سحر

عد، ثم اكتب العدد:



مع تمنياتي بالنجاح والتفوق
مليحة وليد المصري
معلمة خير رياضيات
م : ١٣٢٩٤٧٦٩٤٨

عد، ثم لون العدد الصحيح:



خمسة

أربعة

ثلاثة

سنة



خمسة

سبعة

ثلاثة

اثتان



خمسة

أربعة

ثلاثة

سبعة

مع اعتمادنا بالمشارة والقطر
مستتر و لبيد المصوري
١٤٢٤ - ١٤٢٥

تتبع النقاط ، ثم اكتب العدد :



Handwriting practice row for the number 6. It contains three dashed outlines of the number 6 for tracing, followed by a blank space for independent writing.



Handwriting practice row for the number 7. It contains three dashed outlines of the number 7 for tracing, followed by a blank space for independent writing.



اكتب العدد بالحروف :



سنة

سبعة

مع تفتياتي بالفجاج والقنوق
 صمستر وليله المصري
 بعله نوبير رياضيات جوي
 م: ٤ ٨ ٩ ٧ ٩ ١ ٩ ٢ ٩ ١

انظر للصورة ثم أجب:



كم العدد؟



_____ =



_____ =



_____ =



_____ =


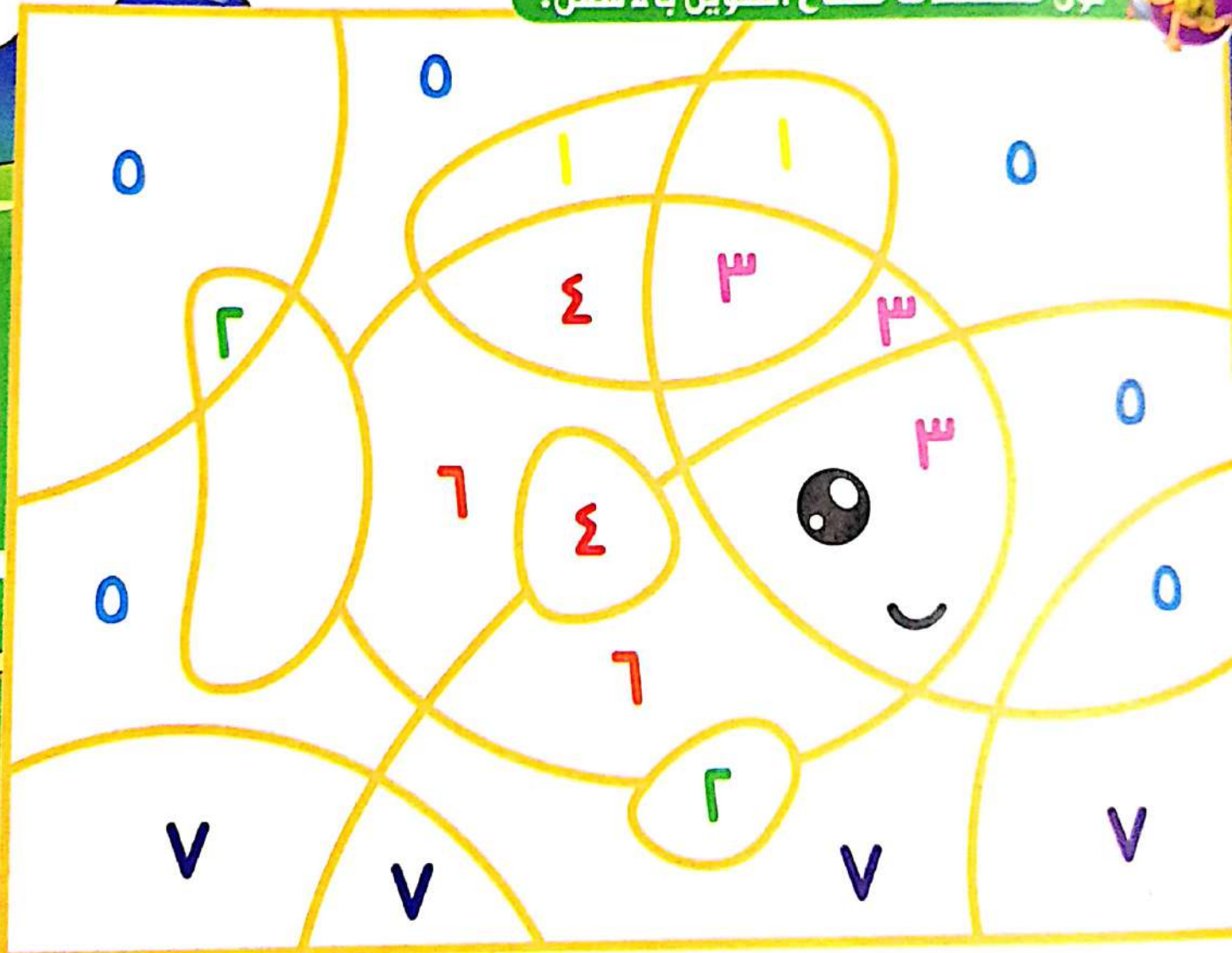




وقت المرح

مع تمنياتي بالنجاح والتفوق
مستر وليد المصري
معلمة خير رياضيات
م : ٠١٢٢٩٤٧٦٩٤٨

لون مستخدماً مفتاح التلوين بالأسفل:



٧



٦



٥



٤



٣



٢



١

مع تمنياتي بالفجاح والتفوق
مستر وليد المصري
عنه خير رياسات
م: ٠١٢٢٩٤٧٦٩٤٨



الفصل ٣

يساوي

أكثر من

أقل من



محتويات الفصل الثالث

مع تميّزاتي بالنجاح والتفوق
مستتر وليد المحسري
عنه غير رياضيات
م : ٠١٢٢٩٤٧٦٩٤٨

سيتعلم الطفل ما يلي:

الدرس ١، ٢

- العدد ٨
- العدد ٩

الدرس ٣، ٤

- العدد ١٠
- العدد صفر

الدرس ٥، ٦

- التمثيل البياني بالصور
- استخدام التمثيل البياني بالصور لتحديد الأكثر والأقل.

الدرس ٧، ٨

- مقارنة الأعداد مستخدمًا (أكثر من وأقل من ويساوي).

الدرس ٩، ١٠

- العد حتى العدد ١٠

- وقت المرح



مع تلميذاتي بالنجاح والتفوق
مستتر وليد المصري
معه خير رياستات
م : ٠١٢٢٩٤٧٦٩٤٨

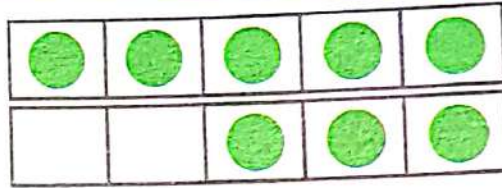


العدد

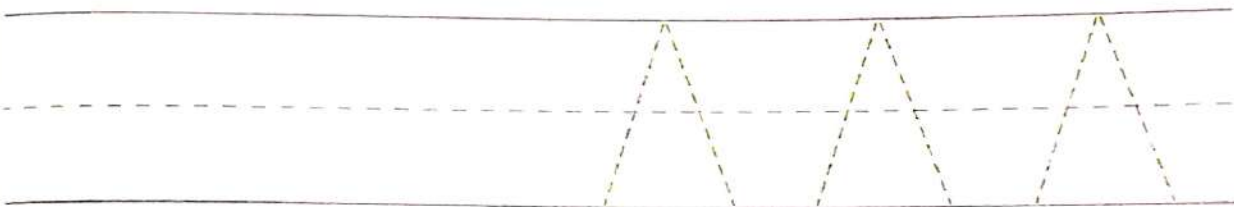
ثمانية



ثمانية



تتبع النقاط، ثم اكتب:




اكتب العدد الناقص:



مع تمنياتي بالنجاح والتفوق
مستتر وليد المحمدي
معه خير رياضيات
م: ١٢٢٩٤٧٦٩٤٨

انظر للصورة ثم أجب:



كم العدد؟

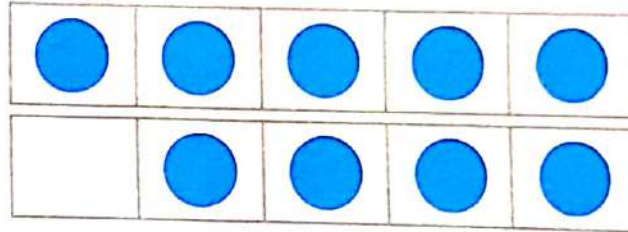



مع تمنياتي بالنجاح والتفوق
مستتر وليد المحسري
معه خير راسمات
م : ٠١٢٢٩٤٧٦٩٤٨

العدد

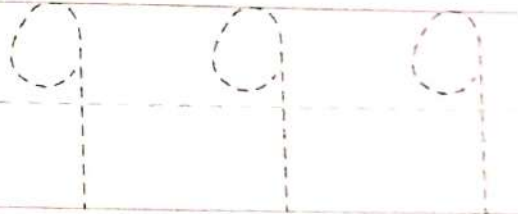
تسعة

9




تسعة

تتبع النقاط، ثم اكتب:



لون ٩ تفاحات:



تسعة

مفردات جديدة

اذهب إلى التقويم وارسم دائرة حول تاريخ اليوم.




عد ولون إطار الخانات الخمس حسب العدد!





تتبع النقاط لرسم الأشكال:




مع تمنياتي بالنجاح والتفوق
مستر وليد المصري
معه خير راسيات
م : ٠١٢٢٩٤٧٦٩٤٨


الدرسان ٣ - ٤

العدد


عشرة



عشرة



تتبع النقاط، ثم اكتب:




ارسم ١٠ :



مع تمنياتي بالنجاح والتفوق
مستتر ولييد المصري
أهله خير رياضيات
م: ٠١٢٢٩٤٧٦٩٤٨

أكمل الأعداد الناقصة في كل صف:





مع تمنياتي بالفتح والتفوق
مستتر وليد المصري
معلمه خير رياضيات
م: ١٢٢٩٤٧٦٩٤٨

العدد

صفر

هناك صفر من
الطيور




صفر

الصفر أصغر من الواحد

تتبع النقاط، ثم اكتب:



اكتب العدد الناقص:



صفر

مفردات جديدة

اذهب إلى التقويم وارسم دائرة حول تاريخ اليوم.



مع تمبلسي بالنبجاء والتفوق
مستتر وليبد المصوري
عنه صخر بالاشبال
م: ٠١٢٢٩٤٧٦٩٤٨

حوظ الصور التي تعبر عن العدد صفر:



تتبع النقاط، ثم اكتب:



التمثيل البياني بالصور

مقارنة البيانات باستخدام أكثر وأقل:

الحيوانات المفضلة عند بعض الأطفال



٥					
٤					
٣					
٢					
١					
أنا الأقل عددًا					


أنا الأكثر عددًا



عد ولون التمثيل البياني بالصور، ثم أجب:



٨				
٧				
٦				
٥				
٤				
٣				
٢				
١				



ارسم دائرة حول الأكثر عددًا.

ارسم دائرة حول الأقل عددًا.



عد و لون التمثيل البياني بالصور، ثم أجب:



٨					
٧					
٦					
٥					
٤					
٣					
٢					
١					

- ()
 ()

ارسم دائرة حول الحلوى الأكثر في العدد.
 ارسم دائرة حول الحلوى الأقل في العدد.

مع تمنياتي بالنجاح والتفوق
 ماستر وليد المصري
 عنه خبير رياضيات
 ر: ٠٢٢٢٩٤٧٦٩٤٨

مقارنة الأعداد



انظر للصورة، ثم ارسم دائرة حول الكلمة المناسبة:



(أكثر من - أقل من) عدد الـ



عدد الـ



(أكثر من - يساوي) عدد الـ



عدد الـ



(أكثر من - أقل من) عدد الـ


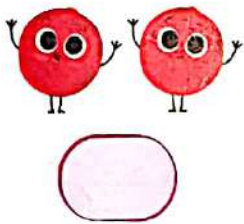
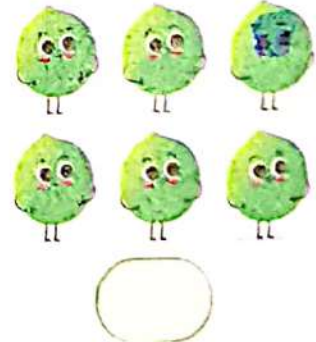
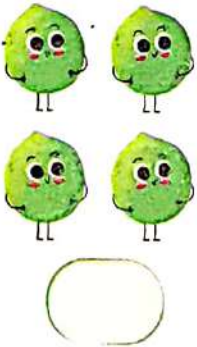


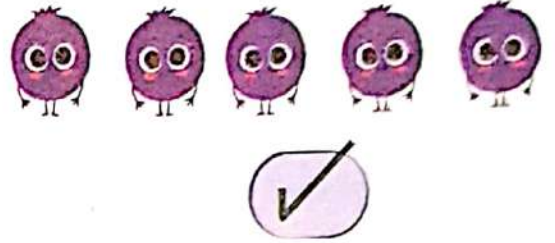



عدد الـ





ارسم دائرة على المجموعة الأقل في العدد وعلامة ✓ أسفل الأكثر في العدد:



مع تميّاتى يا فتاح والتفوق
مستتر وليد المصرى
مهاجرت راسيات
م : ٠١٢٣٩٤٧٦٩٤٨

• وجه طفلك لتكوين مجموعات والمقارنة بين عدد الأشياء في كل منها.





أكبر من

أصغر من

يساوي



أكبر من

أصغر من

يساوي



أكبر من

أصغر من

يساوي



أكبر من







أصغر من

يساوي




مع نسيم وليد المحسري
مستتر ولید المحسري
عنه خير رياضيات
٠١٢٢٩٤٧٦٩٤٨ : م

لون العدد الأكبر في كل صف:




لون العدد الأصغر في كل صف:



مع نسيم وليد المحسري
مستتر ولید المحسري
عنه خير رياضيات
٠١٢٢٩٤٧٦٩٤٨ : م

العد حتى العدد ١٠

تتبع النقاط لتكتب الأعداد:




تتبع النقاط لتكتب الأعداد بالحروف:




واحد	اثنان	ثلاثة
أربعة	خمسة	ستة
سبعة	ثمانية	تسعة
	عشرة	


عد ثم لون حسب العدد:



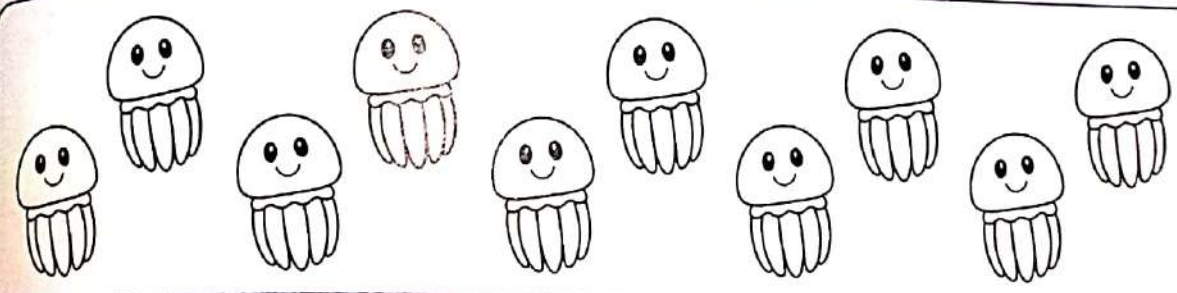
٦




٩



٣



١٠



٨

مع تمنياتي بالنجاح والتفوق
مستر وليد المصري
اجعل طفلك يعد الأشياء من حوله حتى العدد ١٠
١ ٢ ٣ ٤ ٥ ٦ ٧ ٨ ٩ ١٠



مع تمنياتي بالنجاح والتفوق
مستر وليد المصري
عمه خير رياضيات
م: ١٢٢٩٤٧٦٩٤٨

صل:



خمسة




ثمانية




عشرة



واحد






تسعة



مع تمنياتي بالنجاح والتفوق
مستر وليد المصري
معلم خبير رياضيات
م : ٠١٢٢٩٤٧٦٩٤٨

عد ثم اكتب العدد المناسب:





وقت المرح

مع تمنياتي بالنجاح والتفوق
مستر وليد المصري
معلمه خير رياضيات
م : ٠١٢٢٩٤٧٦٩٤٨

عد، واكتب العدد:



		
<hr/> <hr/> <hr/>	<hr/> <hr/> <hr/>	<hr/> <hr/> <hr/>
		
<hr/> <hr/> <hr/>	<hr/> <hr/> <hr/>	<hr/> <hr/> <hr/>

الفصل ٤

مع تمنياتي بالنجاح والتفوق
مستتر وليد المصري
معلمه خير رياضيات
م : ٠١٢٢٩٤٧٦٩٤٨

